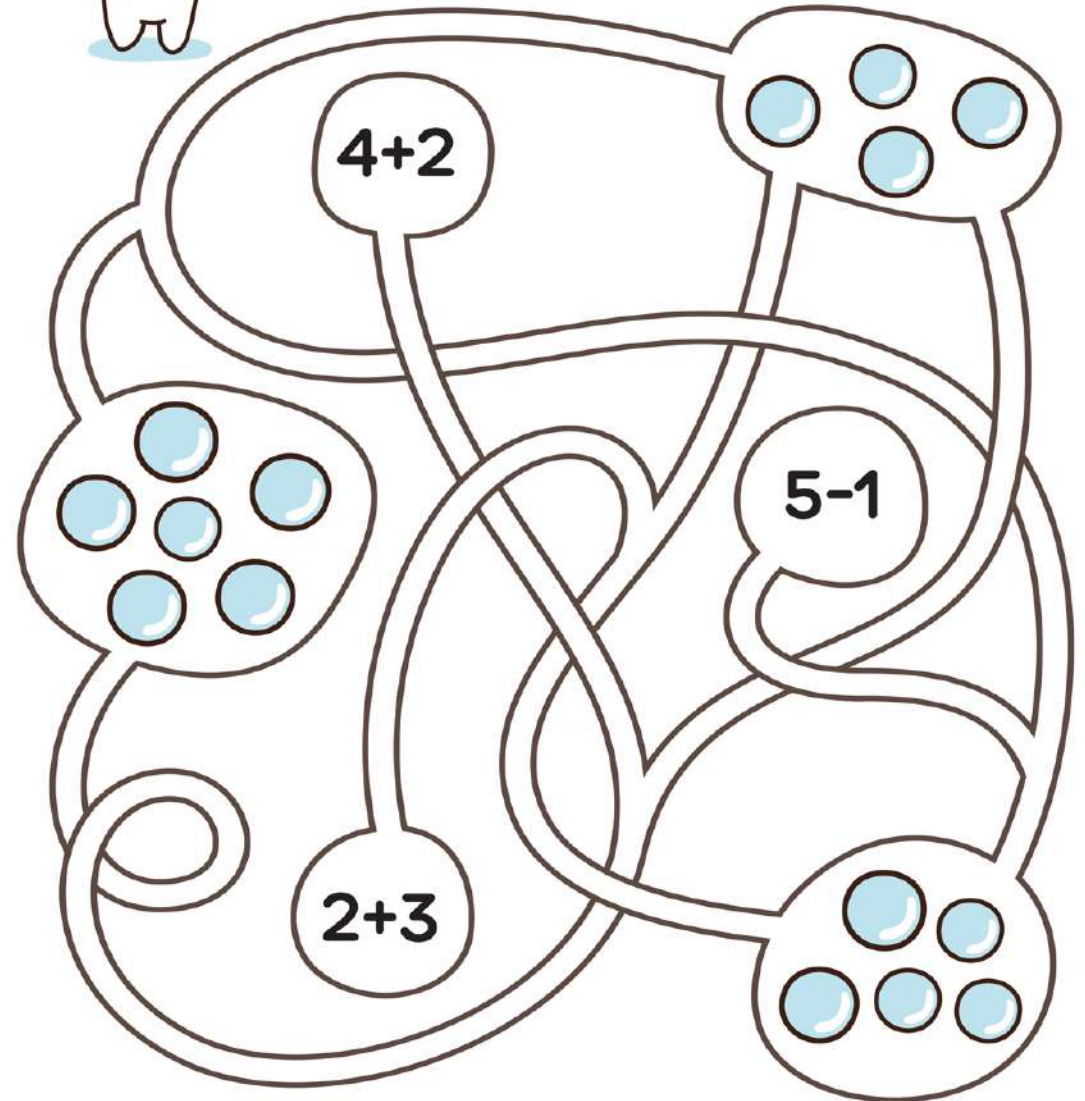




CAPIBARELE AU ADUNAT  
O MULȚIME DE FLORI GALBENE.  
CÂTE SUNT?  
NUMĂRĂ-LE ȘI SCRIE TOTALUL  
ÎN CERCUL ALĂTURAT.



SĂ FACI BALOANE DE SĂPUN E ATÂT  
DE DISTRATIV!  
CÂTE AM FĂCUT? REZOLVĂ EXERCIȚIILE  
ȘI UNEȘTE REZULTATUL CU GRUPUL DE  
BALOANE CORESPUNZĂTOR.





CINE SE ASCUNDE ÎN ACEASTĂ IMAGINE?  
 REZOLVĂ EXERCIȚIILE ȘI ALEGE CULORILE  
 PENTRU A COMPLETA FIGURA MISTERIOASĂ,  
 PE BAZA TOTALURILOR OBTINUTE.



30+20												
40+10	25+25			0+40								
		43-3	31+9	36+4	48-8	10+30						
		50-10	28+12	40+0	25+15	1+39	40-0	29+11				
33+7	49-9	30+10	39+1	20+20	34+6	35+5	32+8	45-5				
		30+0	25+5	50-20	10+20	5+25	19+11	1+29				
		2+28	16+14	28+2	35-5	24+6						
		41-11	15+15	36-6	6+4	30-0	14+16	32-2				
		12+18	40-10	21+9	20+10	29+1	22+8	17+13				
				23+7	18+12	23+7	26+4	19+11				
						7+23	11+19	3+27				



BROASCA TREBUIE SĂ AJUNGĂ LA NUFĂRUL  
 EI PREFERAT. AJUT-O SCRIND NUMĂRUL DE  
 SĂRITURI DINTRE FRUNZE PE LINIA PUNCTATĂ,  
 AȘA CUM ESTE ÎN EXEMPLU.



CELE DOUĂ IMAGINI PAR IDENTICE,  
DAR NU SUNT. EXISTĂ 10 DIFERENȚE.  
GĂSEȘTE-LE PE TOATE.



MAI E CEVA! DOAR DOI DRAGONI SUNT IDENTICI.  
CARE SUNT EI?



FIECARE PERSONAJ ARE UN NUMĂR. REZOLVĂ  
TOATE EXERCIȚIILE DE ADUNARE ȘI SCĂDERE.

= 4    = 6    = 8    = 10

+ =

- =

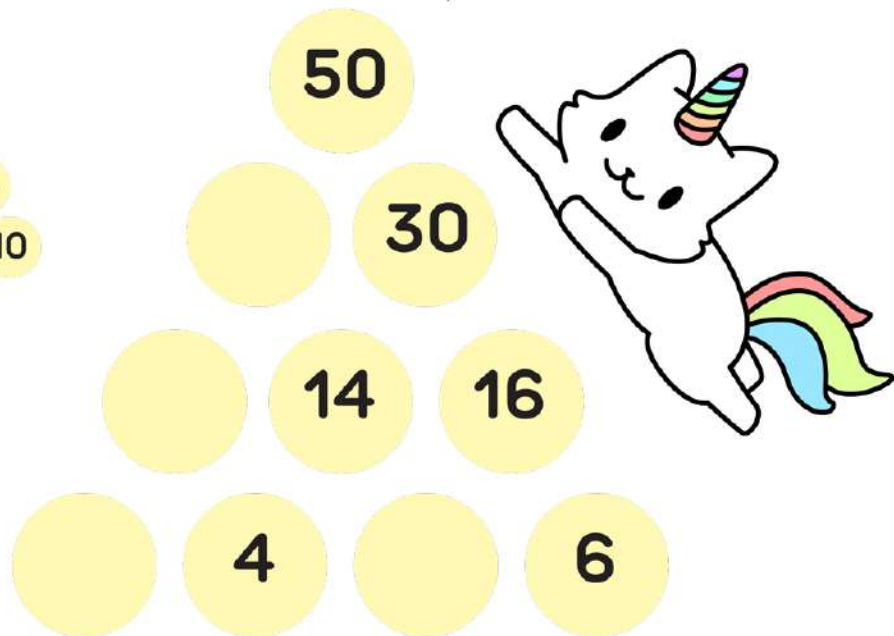
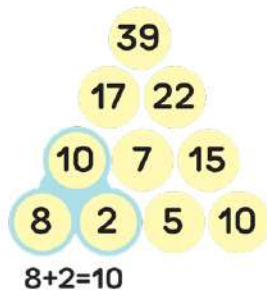
+ =

- =



+ =



COMPLETEAZĂ PIRAMIDA ȘTIIND CĂ FIECARE NUMĂR CARE LIPSEȘTE REPREZINTĂ SUMA CELOR DOUĂ DE SUB EL. PRIVEȘTE CU ATENȚIE EXEMPLUL DAT CA SĂ ÎNȚELEGI CUM SE FACE.



GĂSEȘTE INTRUȘII! ÎN ACESTE DOUĂ GRUPURI, FIECARE CHIP FACE PARTE DINTR-O PERECHE, CU EXCEPȚIA UNUIA. CARE ESTE ACESTA?



ADAugĂ ÎNCĂ 7 STELE STRĂLUCITOARE, APOI COLOREAZĂ DESENUL CU PISICA-UNICORN FOLOSIND CREIOANELE PREFERATE.

